


FICHE OBJECTIFS - CHAPITRE 2 GÉOGRAPHIE PAUVRETÉS ET RICHESSES DANS LE MONDE

I. Compétences travaillées :

1. Se repérer dans l'espace :

- Les États-Unis. 

2. Présenter, analyser et comprendre un document : 

* Présenter et analyser un graphique.

- L'évolution du PIB mondial.

* Présenter et analyser une caricature.

- La répartition de la richesse dans le monde.

* Tirer des informations de vidéos.

- La pauvreté en Inde.

- La misère aux États-Unis.

* Présenter et lire une carte.

- Les inégalités de développement dans le monde (Point méthode).

- L'extrême pauvreté dans le monde (Évaluation de compétence).

3. Pratiquer différents langages : 

* Réaliser une production cartographique (de la carte au croquis).

- Le monde en 2024 : une inégale répartition des richesses.

II. Connaissances



- Le schéma « La pauvreté, c'est »

- Le bilan sur « La pauvreté dans le monde »

Définitions



P.I.B. (Produit Intérieur Brut) : c'est la production de richesses par un pays en une année.

P.M.A : Pays les Moins Avancés. Ce sont les pays les plus pauvres au monde.

Seuil de pauvreté : C'est le niveau de revenu au-dessous duquel un ménage est considéré comme pauvre (2,15\$/jour = seuil d'extrême pauvreté)

Les objectifs de développement durable : il s'agit des 17 objectifs fixés par l'ONU pour répondre aux défis mondiaux, notamment ceux liés à la pauvreté, aux inégalités, au climat, à la dégradation de l'environnement, à la prospérité, à la paix et à la justice.

1.1 D'ici à 2030, éliminer complètement l'extrême pauvreté dans le monde entier (s'entend actuellement du fait de vivre avec moins de 1,90 dollar américain par jour)

1.2 D'ici à 2030, réduire de moitié au moins la proportion d'hommes, de femmes et d'enfants de tous âges souffrant d'une forme ou l'autre de pauvreté, telle que définie par chaque pays.



CHAPITRE GÉOGRAPHIE 2

PAUVRETÉS ET RICHESSES DANS LE MONDE

La production de richesses dans le monde a considérablement augmenté depuis les années 1960.

Cependant, une question centrale se pose : la répartition et le partage de ces richesses, à l'échelle des États mais également à l'échelle de chaque pays.

I. Des inégalités de richesses : une pauvreté ou des pauvretés ?



Compétence - Présenter, analyser et comprendre un document

La situation économique des États-Unis et de l'Inde

	États-Unis	Inde
IDH (en 2023)	0,921	0,633
PIB / Habitant (en PAP \$ courants, en 2021)	81 695\$	10 175\$
Plus grosse fortune du pays (en avril 2024)	195 milliards de \$ (2e fortune mondiale)	116 milliards de \$ (9e fortune mondiale)
10% des plus riches possèdent (en richesses du pays, en 2021)	30%	25,6%
10% des plus pauvres possèdent (en richesses du pays, en 2021)	2,2%	3,3%
Population vivant avec moins de 1\$ par jour (en 2021)	0,2%	12,9%

Source : Banque mondiale.

Les États-Unis sont la 1^{ère} puissance économique du monde, avec un IDH très élevé.

L'Inde est la 5^e puissance économique du monde, avec un IDH moyen.

10% de leur population concentrent respectivement un tiers et un quart des richesses du pays, révélant d'importantes inégalités sociales.



Compétence - Présenter, analyser et comprendre un document

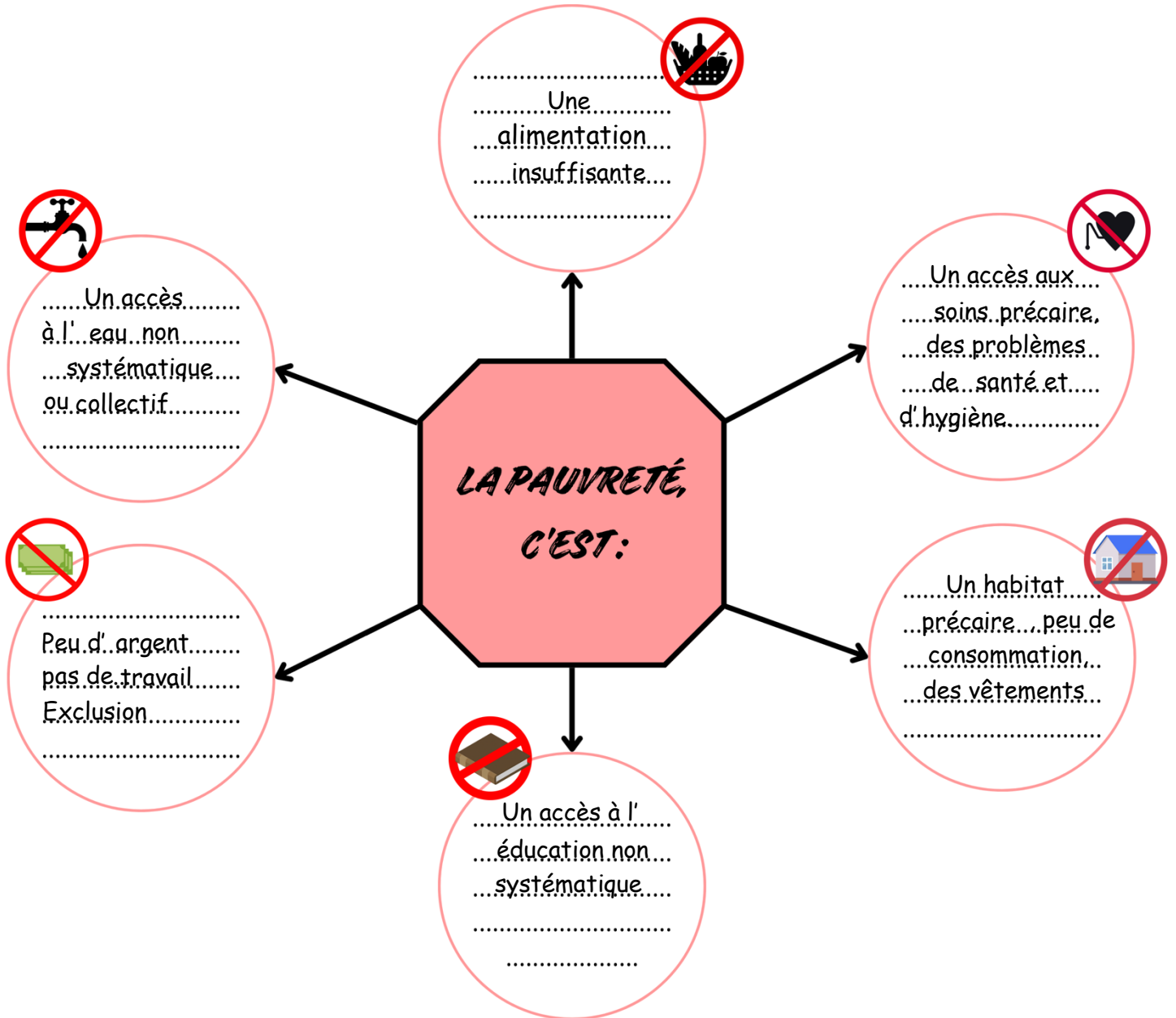
Tirer des informations de vidéos : une ou des pauvretés ?

	Pauvreté dans une puissance émergente	Pauvreté dans un pays développé
Pays	INDE	ÉTATS-UNIS
Logement - Lieu - Matériaux - Aspect - Organisation	<ul style="list-style-type: none">- En ville.- Habitat petit avec des matériaux de récupération, bidonvilles, insalubrité.- Peu d'organisation, problèmes d'hygiène.	<ul style="list-style-type: none">- Milieu urbain.- Plusieurs personnes dans des petites maisons, parfois dans des voitures.- Meubles de récupération.
Vêtements	Vêtements parfois usés (troué, vieux...), traditionnels.	Modestes.
Travail / argent	Peu d'emploi, chômage = peu d'argent.	Pas d'emploi, chômage = peu d'argent. Travailleurs pauvres, sans domicile.
Alimentation / Eau	<ul style="list-style-type: none">- Alimentation restreinte.- Point collectif d'eau avec coupures.- Pollution.	<ul style="list-style-type: none">- Accès à l'eau dans les maisons.- Associations alimentaires pour aider.
Santé / Éducation	<ul style="list-style-type: none">- Écoles assurées par des ONG.- Infrastructures de santé surchargées et vétustes.	<ul style="list-style-type: none">- Accès à l'éducation.- Système de santé avec des dispensaires.
Accès à l'électricité, téléphone, bien de consommation...	précaires mais présents. Peu de biens de consommation...	Électricité présente, peu de biens de consommation.

Bilan

A l'échelle d'un pays, les inégalités sociales sont importantes : ainsi, il existe des pauvres dans les pays dits riches et des riches dans les pays dits pauvres ou émergents.

Les villes sont souvent plus riches que les campagnes et cette situation entraîne l'exode rural. Ces populations vivent alors dans des bidonvilles, dans une extrême pauvreté.

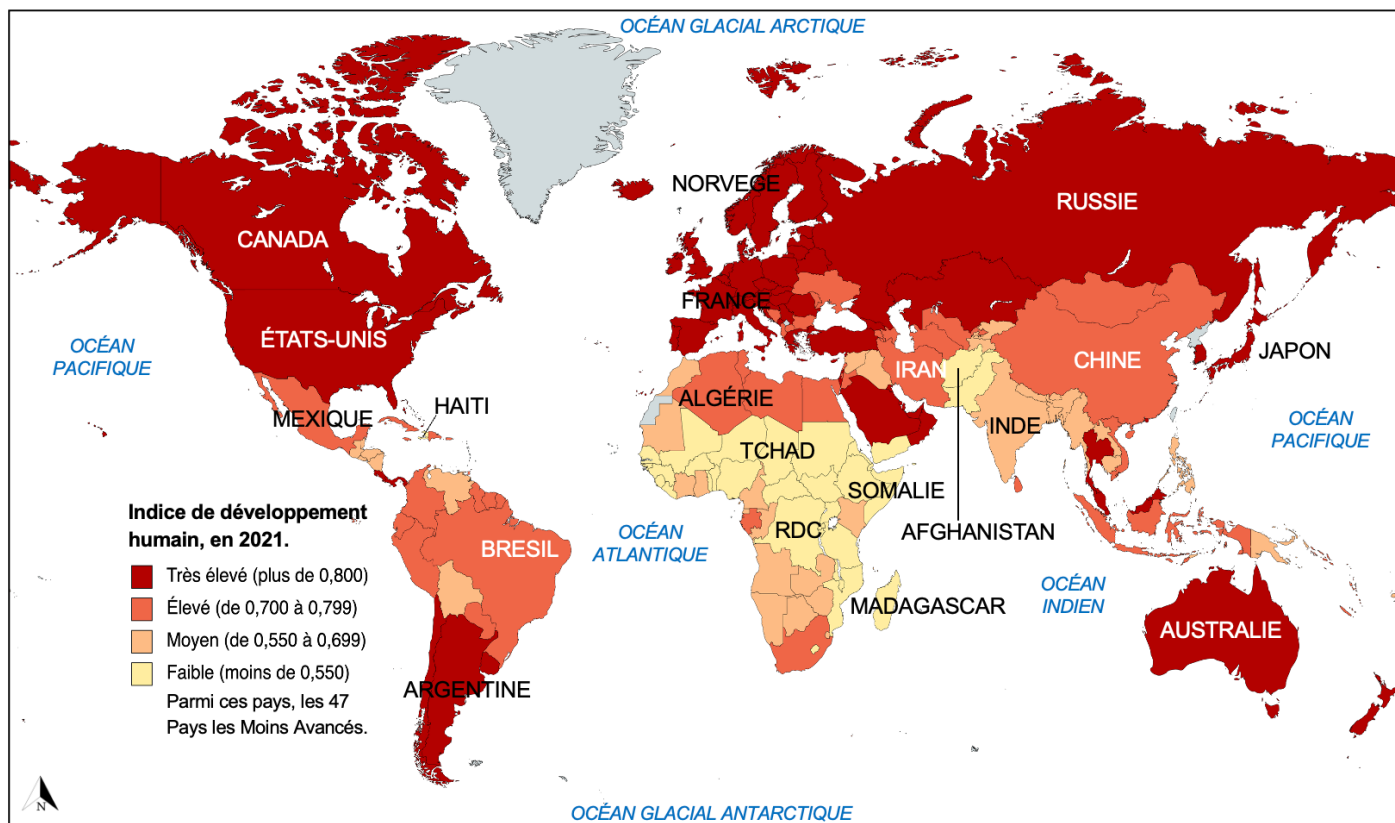


II. Les inégalités dans le monde



Compétence - Présenter, analyser et comprendre un document
Présenter et lire une carte (Point méthode)
Les inégalités de développement dans le monde

Les inégalités de développement dans le monde



Source : UNDP.

PRÉSENTATION

Titre de la carte	Les inégalités de développement dans le monde
Année	2021
Que représente la légende ? Comment ?	L'Indice de Développement Humain avec un code couleur.

Phrase de présentation : Le document est une carte sur les inégalités de développement dans le monde en 2021. La légende présente l'IDH avec un code couleur.

LECTURE DE LA CARTE

Cite quelques pays possédant un IDH faible	La RDC, le Tchad, la Somalie, l'Afghanistan, Haïti.
Que forme la plupart de ces pays ?	Les Pays les Moins Avancés.
Où se trouvent majoritairement ces pays ?	En Afrique subsaharienne
Quelle région du monde est essentiellement concernée par des IDH moyens ? Cite 3 pays en exemple.	L'Asie du Sud avec l'Inde, le Pakistan ou encore le Bangladesh
Cite quelques pays possédant un IDH très élevé	Le Canada, les États-Unis, la France, l'Australie
Où se trouvent majoritairement ces pays ?	En Amérique du Nord, en Europe et en Océanie.
Quel est l'IDH le plus souvent constaté en Amérique latine ? Comment se situe-t-il par rapport à celui de l'Europe et de l'Afrique ?	L'IDH de l'Amérique latine est compris entre 0,700 et 0,799. Il est intermédiaire entre celui de l'Afrique et celui de l'Europe.

Bilan

A l'échelle mondiale, les inégalités de richesse et de développement sont très marquées : les pays du Nord concentrent 63% du PIB mondial pour 16% de la population. Les pays du Sud sont eux divers : les pays pétroliers, les pays émergents et les PMA ont des niveaux de richesse très différents.

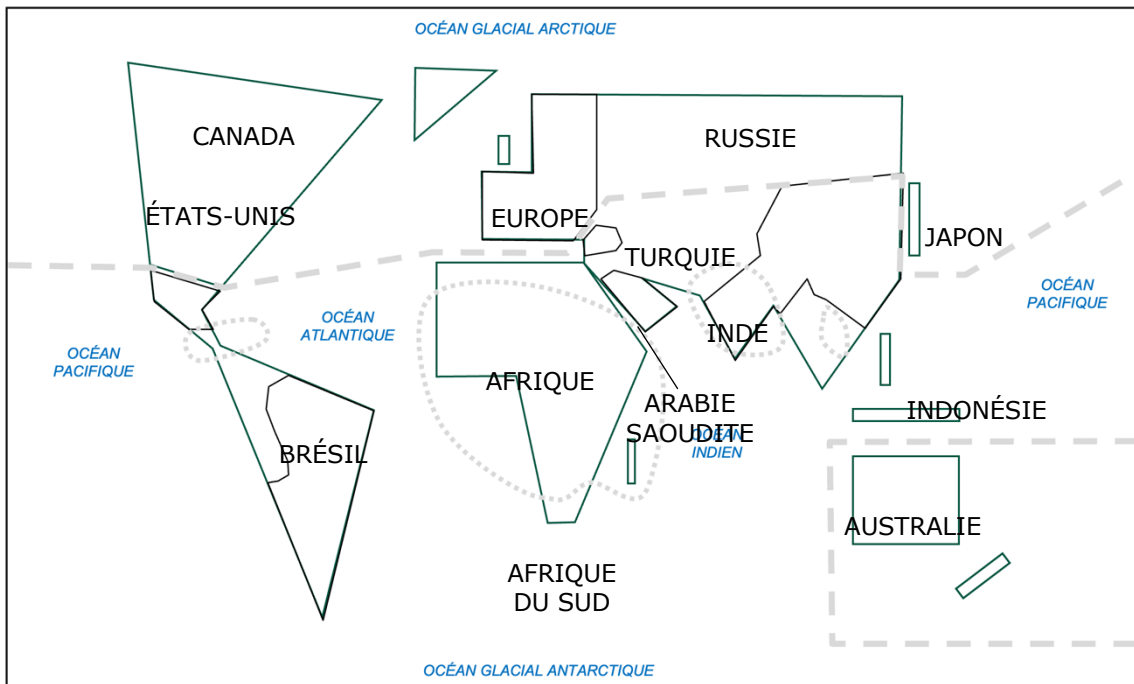
COLLER ÉVALUATION DE COMPÉTENCE

Compétence - Présenter, analyser et comprendre un document
 Réaliser une production cartographique
 Une inégale répartition des richesses

De la carte...



Titre : Le monde en 2024 : une inégale répartition des richesses



1. Les Nords, développés et riches

- Pays les plus développés
- Autres pays développés
- Limite Nord / Sud

2. Les Suds, une grande diversité de richesse et de pauvreté

- Pays émergents
- Pays pétroliers
- Régions où se concentrent les populations pauvres